



लता की कक्षा















यह लता की कक्षा है। दीवारों पर रंग-बिरंगे चित्र बने हैं। गिनती लिखी हुई है। कुछ संख्याएँ मिट गई हैं, उन्हें लिखो—

1	2	3		5	6	7	8	9	
11	12		14	15		17	18		20
	22	23	24		26		28	29	30
31	32		34		36	37			40
41		43		45		47			50
51				55					60
	62				66				70
71			74					79	
81				85					90
		93						99	



आओ, खेलें –

4 या 6 लोग मिलकर खेलो। अपनी-अपनी गोटी आगे बनी ग्रिड के 99 वाले खाने पर रखो। पासा फेंको, गिनकर बढ़ो। बंदर वाले खाने में पहुँचने पर दो खाने पीछे जाओ। बिल्ली वाले खाने में पहुँचने पर पाँच खाने पीछे जाओ। सेब वाले खाने में पहुँचने पर तीन खाने आगे बढ़ो।

99	98	97 →			94
93	92		90 →	89	88
87		85 →	84		82
81 →	80	79		77	76
75	74 →		72	71	
	68	67	66 →	65	64
63		61	60 →	59	
57 →	56 →	55		53	52

🎯 ग्रिड की सहायता से बच्चों में 1 से 99 तक तथा 99 से 1 तक की संख्याओं की समझ बनाएँ। 1 से 99 तक संख्या पर मौखिक प्रश्न भी पूछें।



1. दी गई संख्याओं को बढ़ते क्रम में लिखो—

(क) 37 9 23

(ख) 52 34 78

2. दी गई संख्याओं को घटते क्रम में लिखो—

(क) 36 93 66

(ख) 78 87 89

3. छूटी हुई संख्याएँ लिखो —

6 से ठीक पहले
और ठीक बाद
की संख्या —



12 के बाद
की संख्याएँ—



4. खाली स्थान भरो —

$$\begin{array}{r} \text{(क)} \quad 1 \ 2 \\ + \ 7 \\ \hline 1 \ \square \\ \hline \end{array}$$

$$\begin{array}{r} 1 \ 5 \\ + \ 2 \\ \hline 1 \ \square \\ \hline \end{array}$$

$$12 + 7 = \square$$

$$\begin{array}{r} \text{(ख)} \quad 2 \ 8 \\ - \ 6 \\ \hline 2 \ \square \\ \hline \end{array}$$

$$\begin{array}{r} 2 \ 4 \\ - \ 3 \\ \hline \square \ 1 \\ \hline \end{array}$$

$$28 - 6 = \square$$



5. 9 को कितनी तरह से पा सकते हो ?

जैसे- $7 + 2 = 9$
.....

6. कौन किसके बराबर -

$4 + 3$	$29 - 1$
$15 + 1$	$9 - 2$
$24 + 4$	$19 - 3$

7. गिनो और लिखो-

(क)  = दहाई

(ख)  = दहाई

8. लिखो, ये क्या-क्या खाते हैं -



.....



.....



.....